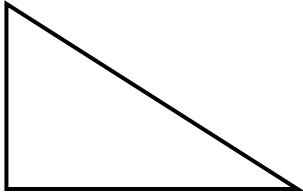


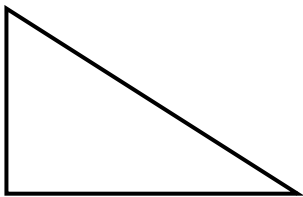
《三角形分类（一）》学程拓展

1. 请在下面的直角三角形中画一条线段，按要求把它分成两个三角形。

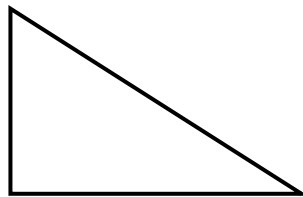
(1) 分成两个直角三角形。



(2) 分成一个直角三角形和一个钝角三角形。



(3) 分成一个锐角三角形和一个钝角三角形。



2. 将下面的平行四边形分割成一个锐角三角形、一个钝角三角形和两个直角三角形。

